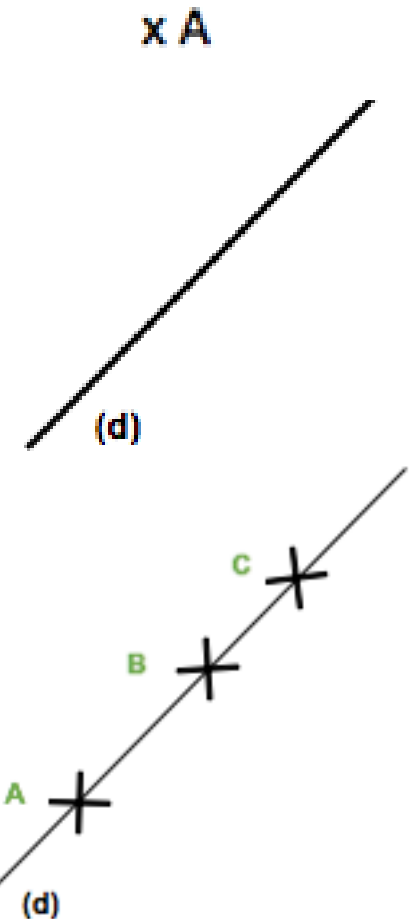
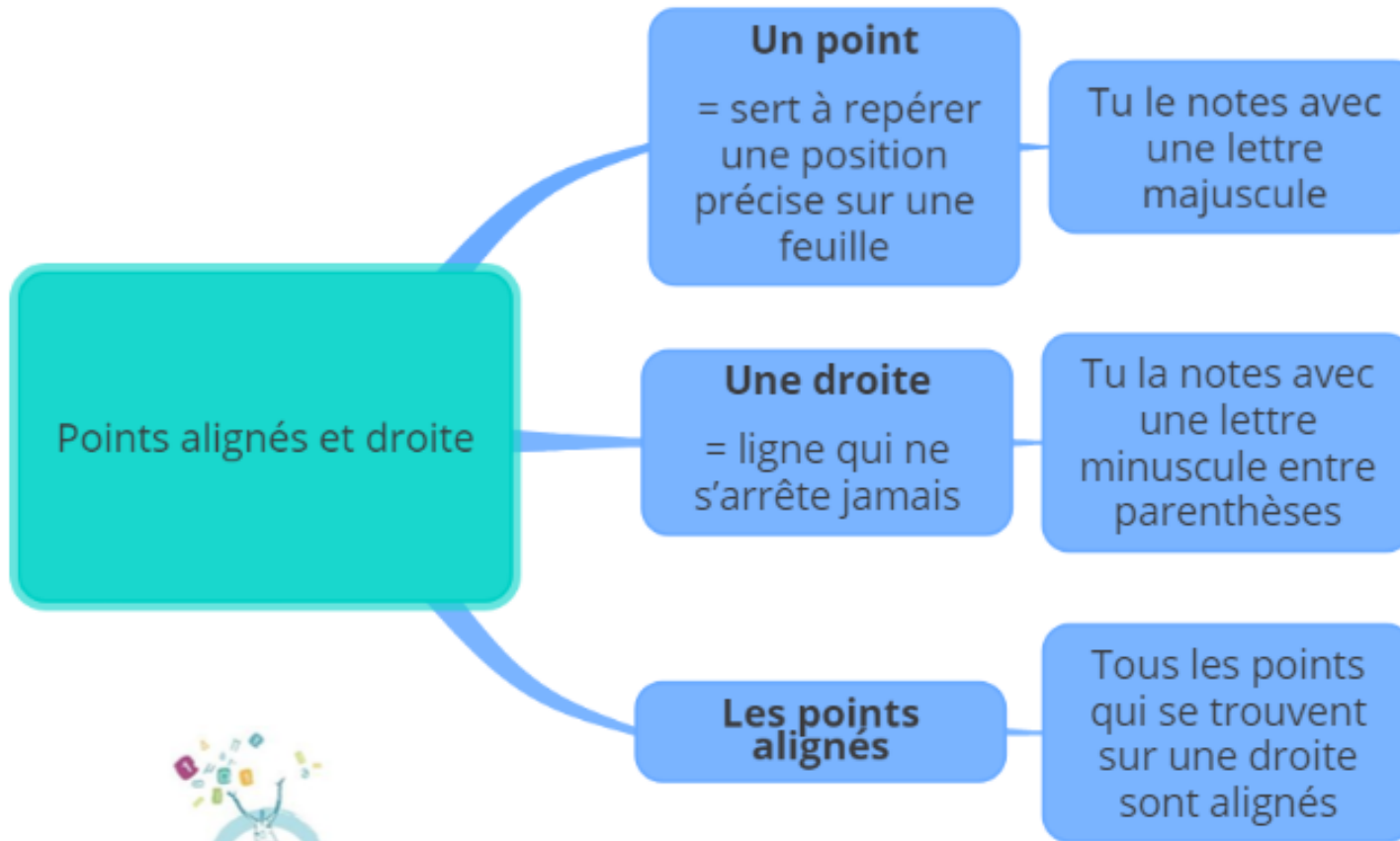


CE2 Mathématiques

Points alignés et droite



◆ Un point

Un point sert à repérer une position précise sur une feuille. Tu le nommes avec une lettre majuscule.

Le point A

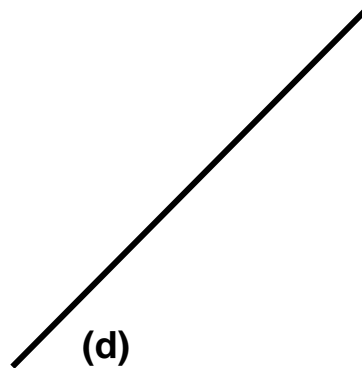


x A

◆ Une droite

Une droite est une ligne qui ne s'arrête jamais, qui est illimitée. Tu la notes avec une lettre minuscule entre parenthèses.

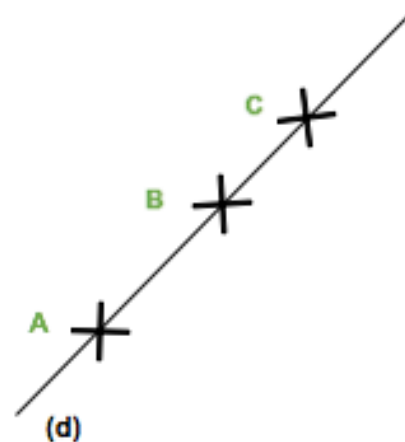
La droite (d)



◆ Les points alignés

Tous les points qui se trouvent sur une droite sont alignés.

Les points A, B et C sont alignés sur la droite (d)



Je m'exerce :

Exercice 1 : Trace une droite (**d**) de 10 cm et place le point **E** sur cette droite :

Exercice 2 : Trace la droite qui passe par les 3 points :




Note les lettres A, B et C à côté des croix.

Les points A,B et C sont – ils alignés ?

OUI

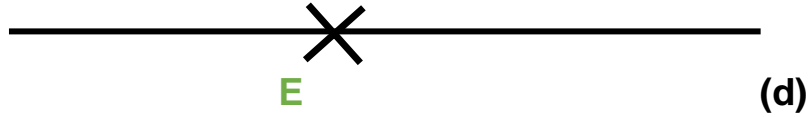
NON

Exercice 3 : Cherche 3 points alignés et trace la droite :

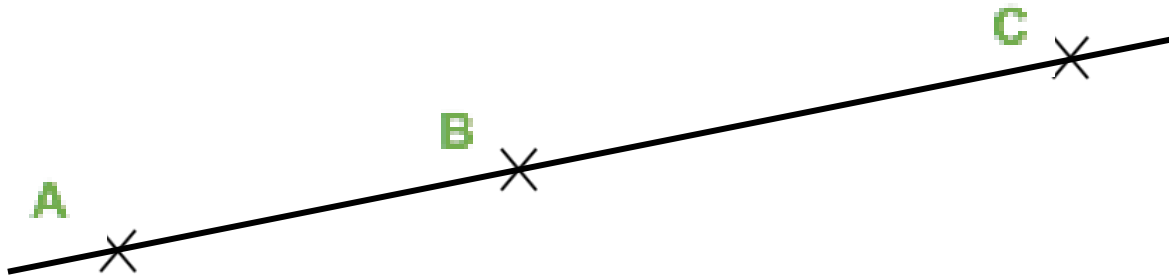


Les corrections :

Exercice 1 : Trace une droite **(d)** de 10 cm et place le point **E** sur cette droite :



Exercice 2 : Trace la droite qui passe par les 3 points :



Note les lettres A, B et C à côté des croix.

Les points A, B et C sont – ils alignés ? **OUI** NON

Exercice 3 : Cherche 3 points alignés et trace la droite :

