

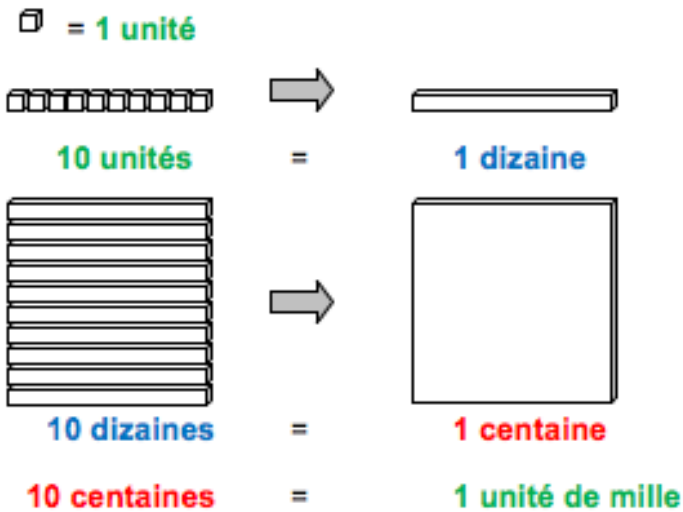
CE2 Mathématiques

Numération jusqu'à 1 000 puis 10 000


Tu peux décomposer les nombres en unités, dizaines, centaines, unités de mille ...

Numération jusqu'à 1 000 puis 10 000

Pour lire et écrire tous les nombres, tu as besoin de peu de mots



Exemple : 327 = 3 centaines, 2 dizaines et 7 unités



un	1	onze	11	trente	30
deux	2	douze	12	quarante	40
trois	3	treize	13	cinquante	50
quatre	4	quatorze	14	soixante	60
cinq	5	quinze	15	soixante - dix	70
six	6	seize	16	quatre - vingt	80
sept	7	dix - sept	17	quatre - vingt - dix	90
huit	8	dix - huit	18	cent	100
neuf	9	dix - neuf	19	mille	1 000
dix	10	vingt	20	dix mille	10 000

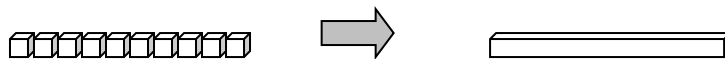
Numération jusqu'à 1 000 puis 10 000

- Pour lire tous les nombres jusqu'à 10 000, tu as besoin de peu de mots :

un	1	onze	11	trente	30
deux	2	douze	12	quarante	40
trois	3	treize	13	cinquante	50
quatre	4	quatorze	14	soixante	60
cinq	5	quinze	15	soixante - dix	70
six	6	seize	16	quatre - vingt	80
sept	7	dix - sept	17	quatre - vingt - dix	90
huit	8	dix - huit	18	cent	100
neuf	9	dix - neuf	19	mille	1 000
dix	10	vingt	20	dix mille	10 000

- Tu peux décomposer les nombres en unités, dizaines, centaines, unités de mille,...

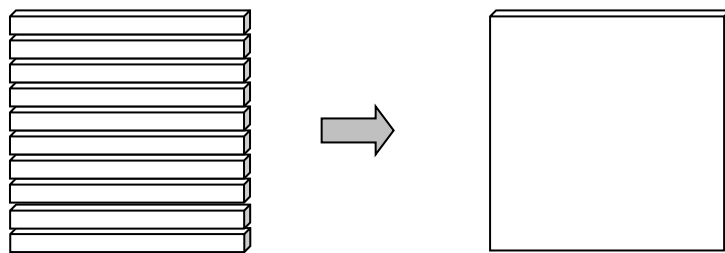
 = 1 unité



10 unités

=

1 dizaine



10 dizaines

=

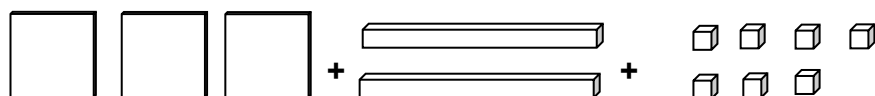
1 centaine

10 centaines

=

1 unité de mille

Exemple : 327 = 3 centaines, 2 dizaines et 7 unités



Je m'exerce :

Exercice 1 : Colorie de la même couleur le nombre et son nom en lettres :

quatre -vingt- sept

soixante - quinze

vingt - trois

quatre – vingt – dix - sept

75

87

23

97

Exercice 2 : Écris ces nombres en lettres :

26 : _____

35 : _____

70 : _____

62 : _____

Exercice 3 : Écris ces nombres en chiffres :

6 centaines 2 unités : _____ 2 unités de mille 4 unités : _____

5 dizaines : _____ 8 centaines 5 dizaines : _____

Exercice 4 : Complète :

3 011, c'est ___ unités de mille, ___ centaine, ___ dizaine et ___ unité

4 300, c'est ___ unités de mille, ___ centaines, ___ dizaine et ___ unité

890 , c'est ___ centaines, ___ dizaines et ___ unité

7 752, c'est ___ unités de mille, ___ centaines, ___ dizaines et ___ unités

Les corrections :

Exercice 1 : Colorie de la même couleur le nombre et son nom en lettres :

quatre -vingt- sept	soixante - quinze	vingt - trois	quatre – vingt – dix - sept
75	87	23	97

Exercice 2 : Écris ces nombres en lettres :

26 : vingt - six

35 : trente - cinq

70 : soixante - dix

62 : soixante - deux

Exercice 3 : Écris ces nombres en chiffres :

6 centaines 2 unités : 602

2 unités de mille 4 unités : 2 004

5 dizaines : 50

8 centaines 5 dizaines : 850

Exercice 4 : Complète :

3 011, c'est 3 unités de mille, 0 centaine, 1 dizaine et 1 unité

4 300, c'est 4 unités de mille, 3 centaines, 0 dizaine et 0 unité

890 , c'est 8 centaines, 9 dizaines et 0 unité

7 752, c'est 7 unités de mille, 7 centaines, 5 dizaines et 2 unités