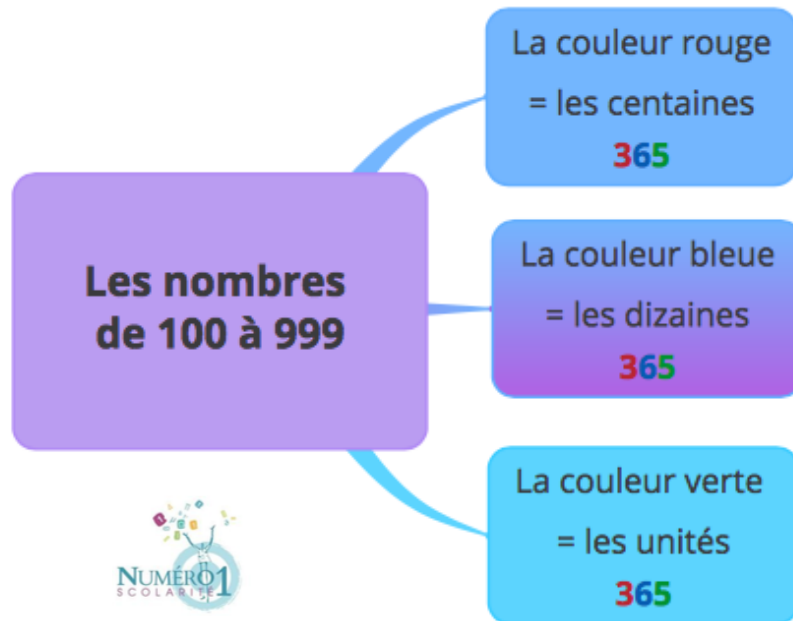

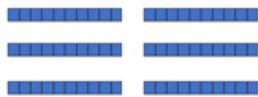



## CE1 Mathématiques


## Les nombres de 100 à 999



c	d	u
<b>3</b>	<b>6</b>	<b>5</b>
		



*Le crocodile est si affamé qu'il ne mange que les plus grands nombres.*


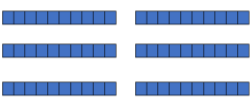



## Les nombres de 100 à 999


La couleur rouge = les centaines

La couleur bleue = les dizaines

La couleur verte = les unités

c	d	u
3	6	5
		

➔ Dans le nombre **365**, il y a **3** centaines, **6** dizaines et **5** unités.



= 100 = 1 centaine = 1c



= 10 = 1 dizaine = 1d



= 1 = 1 unité = 1u

✓ **Explication des signes < et > :**



*Le crocodile est si affamé qu'il ne mange que les plus grands nombres.*



**Je m'exerce :**

**Exercice 1 :** Complète avec < ou > :

$312 \dots\dots\dots 320$

$135 \dots\dots\dots 167$

$97 \dots\dots\dots 92$

$411 \dots\dots\dots 141$

$245 \dots\dots\dots 369$







$113 \dots\dots\dots 133$

$379 \dots\dots\dots 489$

$201 \dots\dots\dots 101$

$489 \dots\dots\dots 490$

**Exercice 2 :** Relie ce qui va ensemble :

	•	• 103
	•	• 280
	•	• 358
	•	• 224
	•	• 304
	•	• 460

**Exercice 3 :** Complète :

$2c \ 4d \ 5u = \dots\dots\dots$	$3c \ 53 \ u = \dots\dots\dots$	$4c \ 6d \ 9u = \dots\dots\dots$
$40d = \dots\dots\dots$	$1d \ 5u = \dots\dots\dots$	$1c = \dots\dots\dots$

## Les corrections :

### Exercice 1 : Complète avec < ou > :

$312 < 320$

$135 < 167$

$97 > 92$

$411 > 141$

$245 < 369$

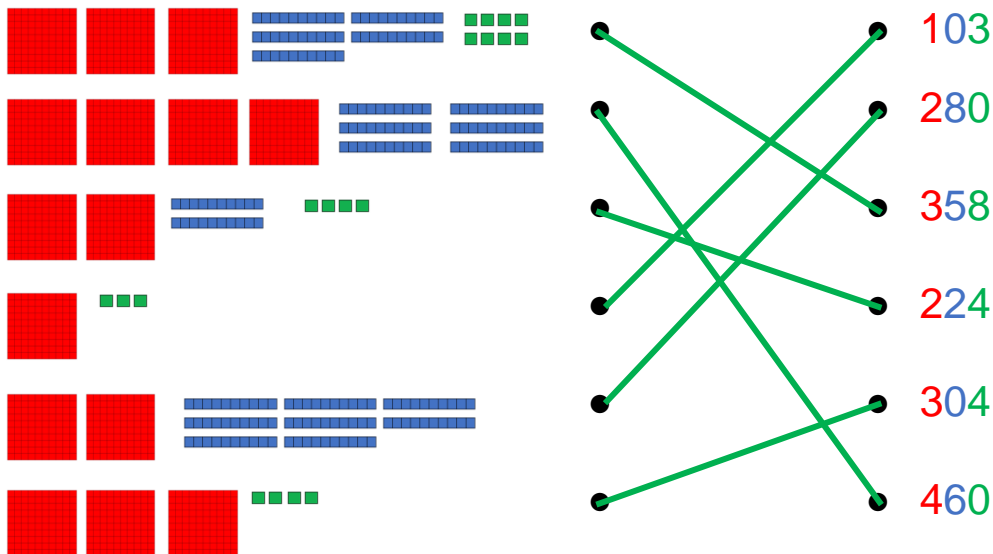
$113 < 133$

$379 < 489$

$201 > 101$

$489 < 490$

### Exercice 2 : Relie ce qui va ensemble :



### Exercice 3 : Complète :

$2c \ 4d \ 5u = 245$

$40d = 400$

$3c \ 53 \ u = 353$

$1d \ 5u = 15$

$4c \ 6d \ 9u = 469$

$1c = 100$